

Фамилия, имя, отчество				
Дата рождения				Класс

## Эрудит-Марафон Учащихся «ЭМУ-Эрудит 2023»

### СМЕЛЫЙ РАУНД [2 класс]

Однажды утром Валлаби получил электронное письмо от своего друга, репортёра Киви:

Привет, Валлаби! Вчера ходил на футбольный матч «Стрела» — «Шторм». Я на седьмом небе! Наша «Стрела» выиграла!

Они забили на три гола больше, чем в прошлый понедельник. Пропустили всего один мяч! А то я в прошлый раз так расстроился, когда «Искра» выиграла у наших со счётом 3:4.

Я сидел позади наших ворот, напротив ворот соперников, но не в самом низу, а посередине.

Раньше мы часто ходили вместе на матчи. Возродим эту традицию и сходим шестнадцатого на игру с «Молнией»?

11 сентября



**ЧЁРНЫЙ  
ВАЛЛАБИ**



**РЕПОРТЁР  
КИВИ**

1. Киви упоминает в письме много событий, и Валлаби запутался. Помогите Валлаби понять, после матча каких команд Киви написал письмо. **Обведи ДВЕ буквы выбранных ответов.**

А. «Стрела»      Б. «Искра»      В. «Молния»      Г. «Шторм»

2. Киви в письме использовал фразу «на седьмом небе». Валлаби несколько раз перечитал письмо, но не понял значения фразы. Помогите ему разобраться, что хотел сказать репортёр этой фразой. **Обведи букву выбранного ответа.**

- А. Киви сидел на самом высоком ряду.  
Б. Киви смотрел матч из окна седьмого этажа дома.  
В. Киви после матча был очень счастлив.  
Г. Киви после матча был очень расстроен.

3. Валлаби с сожалением подумал, что давно перестал следить за играми любимой команды. Поэтому он решил составить расписание игр «Стрелы», о которых писал в своём письме Киви. Используй календарь и помоги ему. **Обведи букву выбранного ответа.**

СЕНТЯБРЬ 2023						
ПОНЕДЕЛЬНИК	ВТОРНИК	СРЕДА	ЧЕТВЕРГ	ПЯТНИЦА	СУББОТА	ВОСКРЕСЕНЬЕ
				1	2	3
4	5	6	7	8	9	10
11	12	13	14	15	16	17
18	19	20	21	22	23	24
25	26	27	28	29	30	

А.	Б.	В.	Г.
<u>4 сентября</u> «Стрела» — «Шторм»	<u>10 сентября</u> «Стрела» — «Шторм»	<u>4 сентября</u> «Стрела» — «Искра»	<u>4 сентября</u> «Стрела» — «Искра»
<u>10 сентября</u> «Стрела» — «Искра»	<u>16 сентября</u> «Стрела» — «Молния»	<u>10 сентября</u> «Стрела» — «Шторм»	<u>11 сентября</u> «Стрела» — «Шторм»
<u>16 сентября</u> «Стрела» — «Молния»	<u>18 сентября</u> «Стрела» — «Искра»	<u>16 сентября</u> «Стрела» — «Молния»	<u>16 сентября</u> «Стрела» — «Молния»

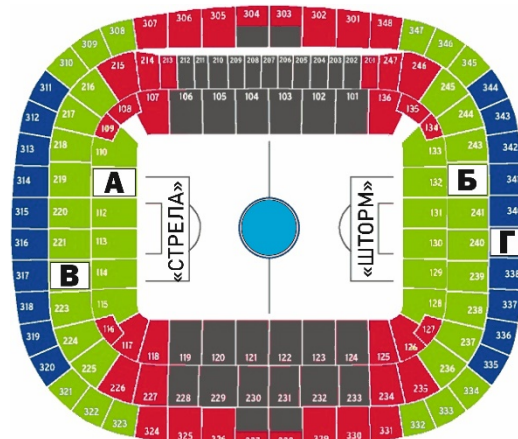
4. Внезапно Валлаби понял, что и сам давно не занимался спортом. Он решил отправиться на тренировку и забить столько же мячей, сколько забила «Стрела» в матче со «Штормом». Сколько мячей ему надо забить?

**Запиши в ответе только число.**

**Ответ:** \_\_\_\_\_.

5. Для своей тренировки Валлаби выбрал тот самый стадион, где проходил описанный в письме матч. Он даже попытался найти место, на котором сидел Киви. Изучи схему стадиона и помоги Валлаби. **Обведи букву выбранного ответа.**

- А.  
Б.  
В.  
Г.



6. На тренировке Валлаби встретил свою подругу — почтальона Александрину. Александрина оказалась болельщицей той же команды, которую поддерживают Валлаби с Киви. Она стала расспрашивать о том, что ещё было в письме. Помогите Валлаби ответить. **Обведи верный ответ напротив каждого вопроса.**

1) Команда «Стрела» в этот раз сыграла хуже, чем в прошлый?	А) ДА	Б) НЕТ
2) «Стрела» проиграла «Искре», но выиграла у «Шторма»?	А) ДА	Б) НЕТ

Александрина обрадовалась, что Валлаби снова увлёкся спортом. Она сразу же позвала его участвовать в городском забеге и показала объявление:

Перед стартом не забудь прикрепить номер участника!

Приходить в одежде для бега. При себе иметь медицинскую справку.

Взрослые – 4 км
Юноши – 3 км
Дети – 1 км

<b>А</b> – старт для всех
<b>Б</b> – финиш для детей
<b>В</b> – финиш для юношей
<b>Г</b> – финиш для взрослых

## Забег против вырубki лесов

**15 сентября 10:00**

*Собранные средства пойдут на покупку саженцев лесных деревьев*

**Запись и оплата участия (2 \$ AU) с 9:00 часов**

7. В объявлении оказалось так много информации, что Валлаби сначала растерялся. Помогите ему разобраться. Сопоставь значения чисел на объявлении с числами.

Значения чисел	Числа
1) В это время состоится забег против вырубki лесов	А) 2
2) В этот день состоится забег против вырубki лесов	Б) 4
3) Столько километров во время забега пробегут взрослые	В) 15
4) Столько австралийских долларов нужно заплатить за участие	Г) 10

**Заполни вторую строку таблицы соответствующими буквами.**

**Ответ:**

<b>1</b>	<b>2</b>	<b>3</b>	<b>4</b>

**8.** Валлаби идея понравилась. Он сразу стал планировать свою подготовку. Изучи объявление и помоги Валлаби понять, что ему нужно сделать в день забега? **Обведи ТРИ буквы выбранных ответов.**

- А. Записаться на участие в забеге  
Б. Получить медицинскую справку  
В. Оплатить участие в забеге  
Г. Получить номер участника

**9.** Валлаби всю готовился, когда ему позвонил Киви. Оказывается, репортёр тоже будет на забеге. Друзья договорились встретиться после соревнований в месте, где финишируют взрослые. Где это место? **Обведи букву выбранного ответа.**

- А. около стадиона      Б. около фонтана      В. возле школы      Г. у входа на пляж

**10.** Вот и день соревнований! На удачу Валлаби решил прикрепить к своей футболке значок, который показывал бы цель забега. Помоги ему выбрать значок с подходящим рисунком. **Обведи букву выбранного ответа.**

А.	Б.	В.	Г.

**11.** Уже на старте Валлаби понял, что плохо помнит маршрут. Он участвует в соревнованиях для юношей. Изучи объявление и помоги Валлаби. В какой последовательности он будет бежать по улицам?

- А) Лесная      Б) Парковая      В) Школьная      Г) Спортивная

**Запиши в ответе верную последовательность букв.**

**Ответ:** \_\_\_\_\_.

**12.** Вот и финиш! Валлаби не выиграл, но прибежал с хорошим результатом. Киви решил взять у него интервью и включить его в свою статью о забеге. Изучи маршрут на объявлении и помоги Валлаби ответить на вопросы. **Обведи верный ответ напротив каждого вопроса.**

1) Во время забега дети бежали около парка?	А) ДА	Б) НЕТ
2) Дистанция юношей проходила вдоль моря?	А) ДА	Б) НЕТ

После забега Валлаби решил сам организовать спортивное мероприятие для детей в своём районе. Он попросил Александрина и Киви помочь ему в этом. Репортёр прислал другу схему «Весёлых стартов», на которых недавно побывал:

номер эстафеты	1)	2)	3)	4)	5)
названия команд					
«Страусята»	4	2	1	1	4
«Стрижи»	1	3	2	3	2
«Кенгурята»	2	1	4	2	1
«Дельфины»	3	4	3	4	3

**Эстафеты:**

1) Конкурс капитанов «Полоса препятствий»

2) «Волна»

3) «Мяч между двумя палками»





4) «Поймай мяч и садись»

5) «Бег в мешках»





**13.** Валлаби захотел провести такие же «Весёлые старты». Надо только найти подходящее место. Нужен спортивный зал длиной не меньше 35 метров с решётками на окнах, который будет свободен с 18 до 20 часов. В каком спорткомплексе есть подходящий зал? **Обведи букву выбранного ответа.**

Название спорткомплекса	Длина зала	Решётки на окнах	Свободное время
А. «Кристалл»	36 м	нет	с 15 до 21 часа
Б. «Дружба»	30 м	есть	с 17 до 20 часов
В. «Олимп»	40 м	есть	с 18 до 21 часа
Г. «Спартак»	42 м	есть	с 9 до 19 часов

**14.** Александрина вызвалась найти спортивный инвентарь. Но она принесла больше предметов, чем нужно. Изучи список эстафет на схеме. Какие предметы **НЕ** понадобятся Валлаби для эстафет? **Обведи ДВЕ буквы выбранных ответов.**

А.	Б.	В.	Г.
			

**15.** Александрина посоветовала Валлаби провести красивое открытие соревнований, где команды озвучат свои девизы. Валлаби заинтересовался. Он постарался найти девизы для команд. Помоги ему. Сопоставь название команды с её девизом.

Название команды	Девиз команды
1) «Дельфины» 	А) «Наши крылья так быстры, победить мы всех должны!»
2) «Страусята» 	Б) «Лишь один большой прыжок — ты на финише, дружок!»
3) «Стрижи» 	В) «Наш отряд плывёт вперёд, никогда не устаёт!»
4) «Кенгурята» 	Г) «Мы бежим быстрее всех и нас ждёт большой успех!»

**Заполни вторую строку таблицы соответствующими буквами.**

**Ответ:**

1	2	3	4

**16.** Валлаби и его друзья собрали команды. Первая эстафета — для капитанов. Помоги Валлаби вспомнить название эстафеты. **Обведи букву выбранного ответа.**

А. «Волна»

В. «Бег в мешках»

Б. «Полоса препятствий»

Г. «Поймай мяч и садись»

**17.** На соревновании Киви будет ведущим, но он от волнения всё забыл. Изучи схему. Помоги ему вспомнить порядок действий участников в конкурсе капитанов.

А) перешагнуть через кубики

В) пролезть через обруч

Б) пройти по скамейке

Г) подлезть под скамейкой

**Запиши в ответе верную последовательность букв.**

**Ответ:** \_\_\_\_\_.

**18.** Пришло время награждать победителей. Но Валлаби забыл разобраться с тем, как их определить! В схеме команда-победитель отмечена значком с кубком. Помоги Валлаби найти ответы на вопросы. **Обведи верный ответ напротив каждого вопроса.**

1) У команды-победителя в каждой эстафете больше очков, чем у других команд?	А) ДА	Б) НЕТ
2) У команды-победителя общее количество очков больше, чем у других команд?	А) ДА	Б) НЕТ



Спасибо! Благодаря твоей поддержке я не только сам вернулся в спорт, но и смог провести весёлые эстафеты и увлечь спортом других!